

3. b kategorija
3. b kategorija

grupa A




Ime i prezime: _____


1. a) Prepozna i imenuj zadane ljestvice:

10 bodova






b) Napiši zadane ljestvice u smjeru strelice (predznake pisati ispred nota):



F dur ↓

h mol harmonijski ↑



d mol melodijski ↓


3. b kategorija

2. Transponiraj melodijski primjer u zadani tonalitet (predznake piši ispred nota):

a)



12 bodova



D dur

b)




12 bodova



e mol

3. a) Izgradi zadane intervale naviše:

12 bodova



č.4

m.3

v.2


č.5

m.2

v.3

b) Prepoznaj i odredi veličinu i vrstu zadanih intervala:

12 bodova



4. Na zadanom stupnju tonaliteta izgradi kvintakord i odredi njegovu vrstu

3. b kategorija

(predznake piši ispred nota):

18 bodova



e harmonijski: V. d prirodni: V. B: III. G: II. C: IV. a melodijski: V.

5. Transkribiraj primjer u zadanu mjeru:

a)

8 bodova



b)

8 bodova



6. U melodijskom primjeru dopuni taktove odgovarajućim notnim vrijednostima ili pauzama, tako da zapis odgovara mjeri:

8 bodova



_____od ukupno 100 bodova

Članovi ocjenjivačkog suda:

1. _____

2. _____

3. _____